



امتحانات أبناؤنا في الخارج

ملف تقييم الأداء

رياض أطفال
المستوى الثاني
2Kg

باللغة العربية

الدور

الثاني



2026

رقم الجلوس:

اسم الطالب:

سفارة جمهورية مصر العربية في دولة:



غير مصرح بالكتابة فيها

جمهورية مصر العربية




إرشادات عامة

- يتم تحميل ملف التقييم للطالب باللغة العربية للطلاب المتقدمين على (النظام العربي) من خلال المنصة الالكترونية لأبنائنا في الخارج بوزارة التربية والتعليم :

<http://saboard.emis.gov.eg>

- يتم طباعة الملف ويقوم الطالب بالإجابة عن الأنشطة الموجودة.
- يتم رفع الملف بعد الانتهاء من الإجابة عليه على المنصة الالكترونية لأبنائنا في الخارج.
- يتم تحميل الملف ورفعها بعد استكمالها بداية من وضعها على المنصة ولمدة أسبوعين.
- لا يتم ارسال أية ملفات تقييم ورقية ، ويتم التعامل من خلال المنصة الالكترونية فقط
- يتم تحميل الملف ورفعها من خارج جمهورية مصر العربية فقط.

النشاط الأول: لون الدائرة التي بها صوت الحرف المناسبالنشاط الثاني: ضع دائرة حول السفينة ثم ارسمها

النشاط الثالث: لاحظ شكل الحرف في الكلمة ثم ارسم دائرة حول الشكل المناسب للكلمة

خُلُود

د

ر

طَائِرَة

ر

ر

فَرَاشَات

ت


ت

خَضْرَاوَات

خ

خ

النشاط الرابع: اقرأ الكلمة، ثم حللها إلى حروف



النشاط الخامس: ضع علامة (√) عند السلوك الذي تفعله قبل تناول الطعام



النشاط الأول: لون الصورة التي تعبر عن عيد الفطر



النشاط الثاني: ضع دائرة حول المنتج الأقل سعراً وما الفرق في السعر؟

٩ جنيه




أقل _____

٥ جنيه




١٠ جنيه




أقل _____

٨ جنيه



٦ جنيه

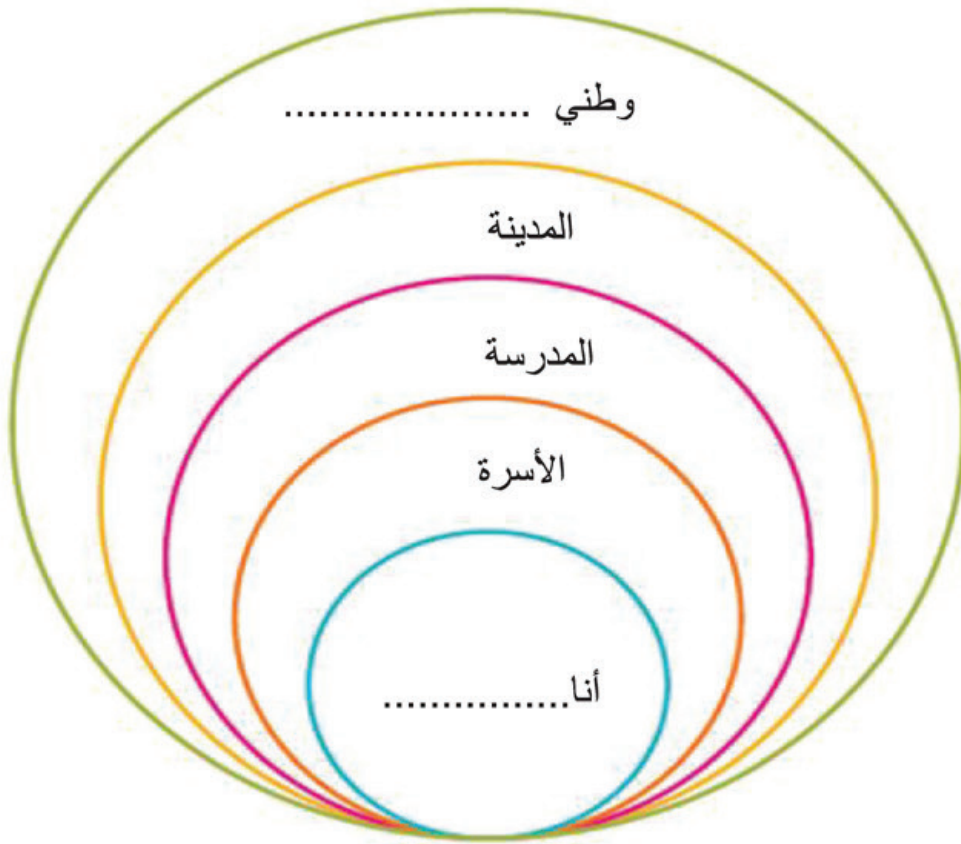


أقل _____


٤ جنيه



النشاط الثالث: أكتب اسمك واسم وطنك في المكان المناسب



النشاط الرابع: ارسم دائرة حول الكائنات الحية




النشاط الخامس: أكمل



هذه الأداة مصنوعة من

هذه الأداة تستخدم في

النشاط الأول: أكمل



النشاط الثاني: صل العدد (١٦) بمكوناته

$$5 + 5$$

$$6 + 10$$

$$5 + 9$$

$$16$$

$$5 + 10$$

$$8 + 8$$

$$9 + 7$$

النشاط الثالث: ضع دائرة حول القلم الأول وعلامة (✓) على القلم الثالث



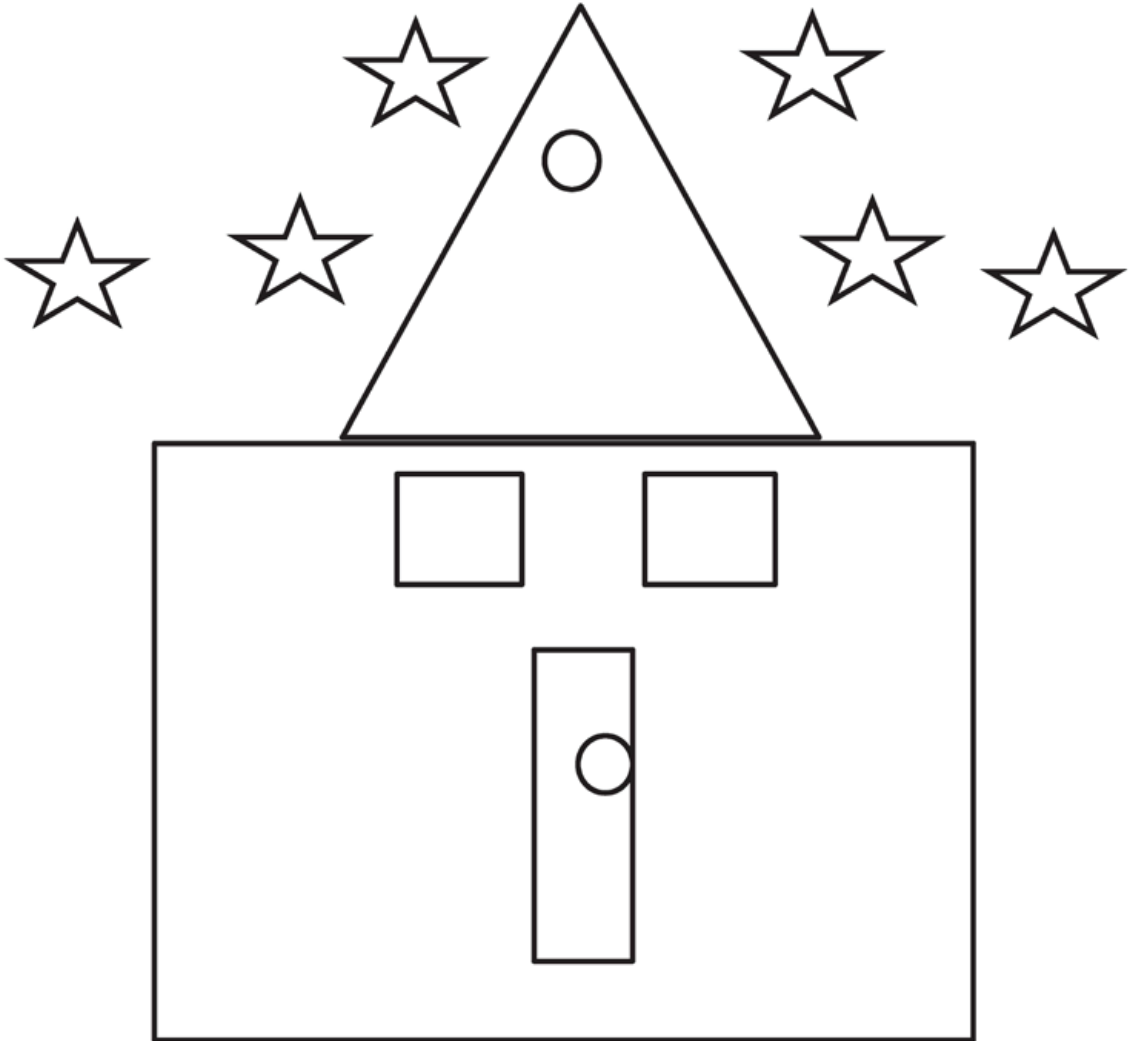
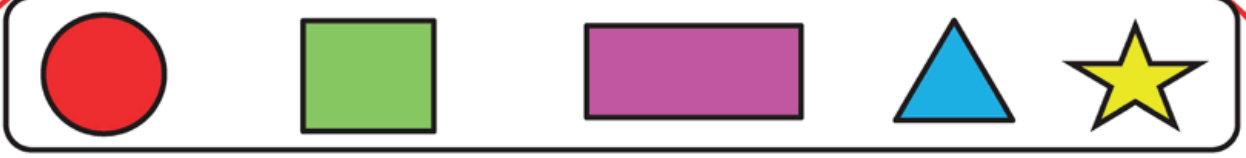
الرابع

الثالث

الثاني

الأول



النشاط الرابع: استخدم هذه الأشكال في تلوين المنزل، ثم أجب عن الأسئلة الآتية:-



كم عدد النجوم

كم عدد المثلثات

النشاط الخامس:- عد الأشكال ثم صلها بالعدد المناسب




1- Match the picture that begin with Ww



W w

2- Count and match.



6

8

7

3-Circle the picture that matches the action

jump



run



skip



4- Circle the correct letter, then trace:



Aa

Tt



Hh


Aa





Hh


Tt

5-Use the color code to color the picture.







t =  yellow

a =  orange

h =  brown



6-Match the job to its workplace.



غير مصرح بالكتابة فيها

جمهورية مصر العربية



ملف تقييم الأداء

Kg₂

رياض أطفال
المستوى الثاني

باللغة العربية



الدور الثاني 2026